









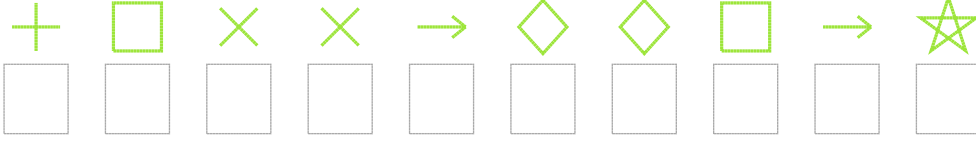


Şekil Sayı Eşleştirme

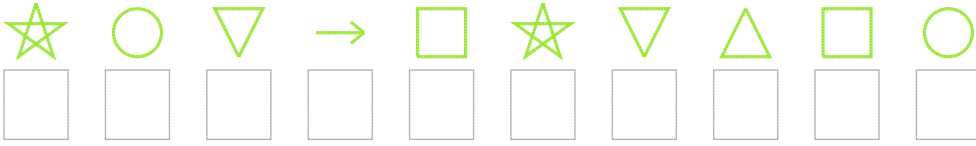
 = 4	 = 1	 = 0	 = 5	 = 3	 = 9	 = 8	 = 6	 = 2	 = 7
--	--	--	--	--	--	---	--	--	--

Aşağıdaki uzun şifreleri hatasız çözerek altlarına yazın:

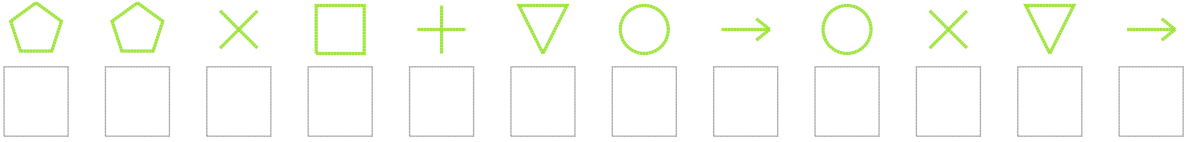
1. Şifre



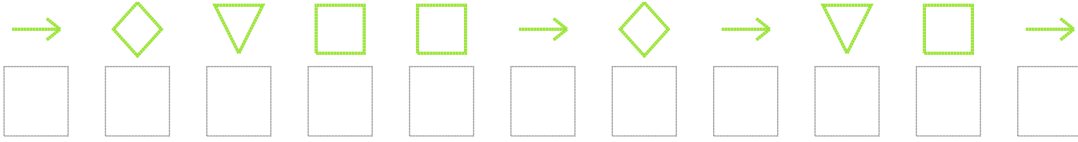
2. Şifre



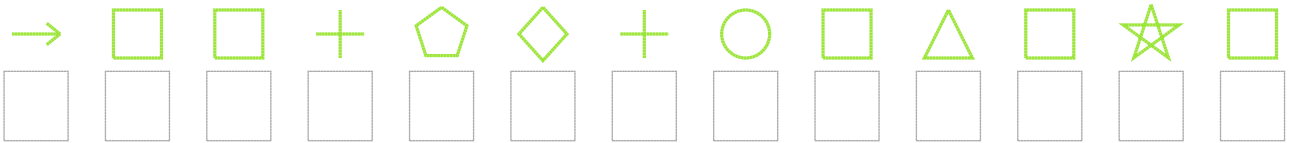
3. Şifre



4. Şifre



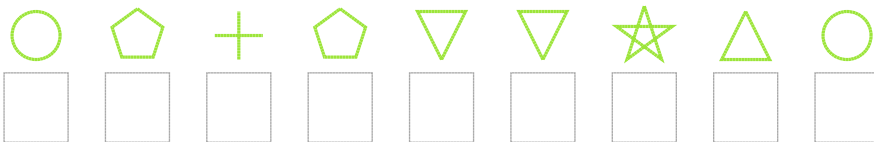
5. Şifre



6. Şifre



7. Şifre



❑ BONUS: 4. ve 2. şifrenin üçüncü rakamının toplamı kaçtır?

Cevap Anahtarı

1. Şifre: 6599877584

2. Şifre: 4138543251

3. Şifre: 009563181938

4. Şifre: 87355878358

5. Şifre: 8556076152545

6. Şifre: 518041031

7. Şifre: 106033421

□ Bonus Soru Cevabı: 6